

Náttúra og tækni

45 minuttir

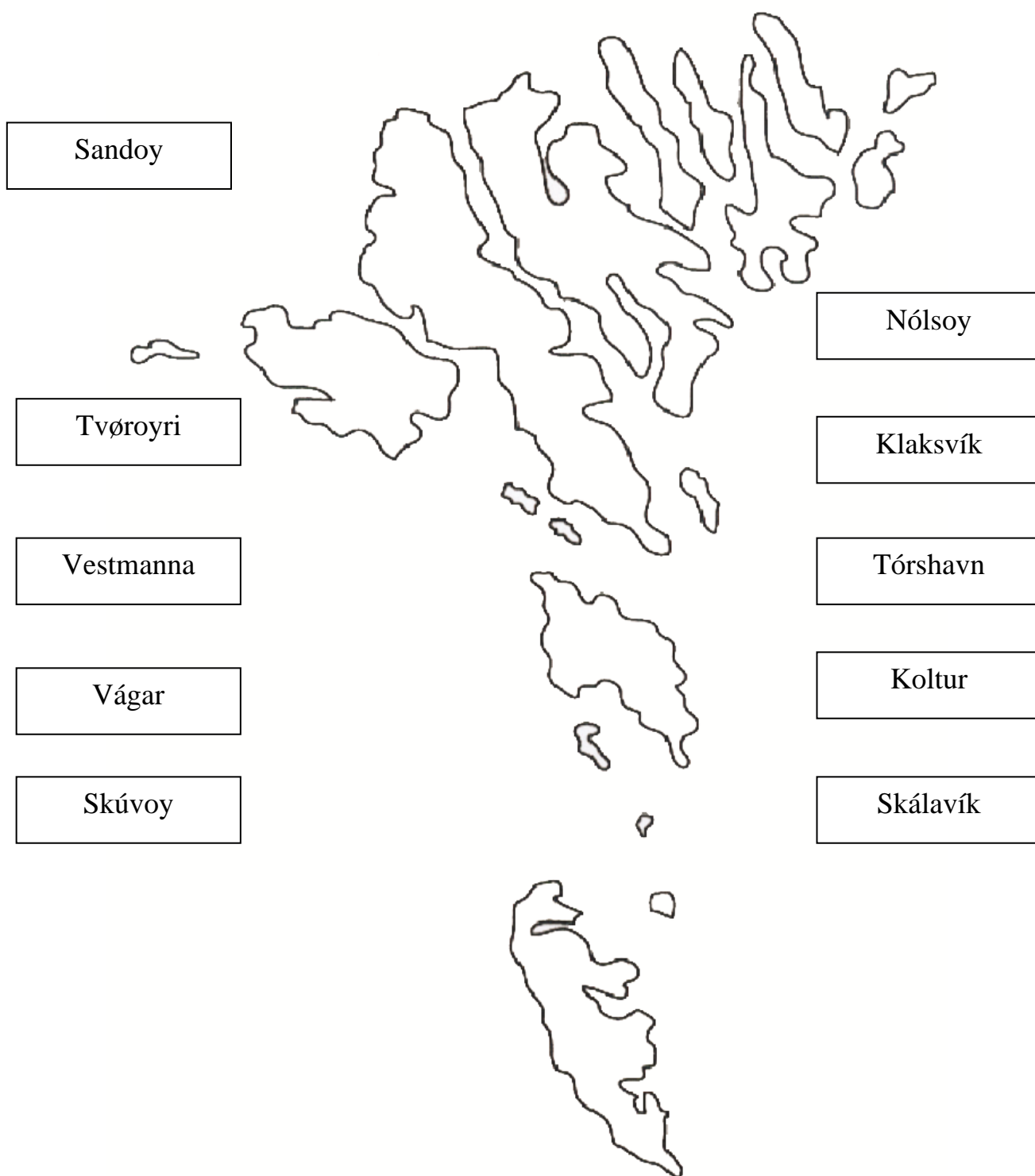


Navn:	Flokkur:
Skúli	Lærari:

Svarini verða skrifað á uppgávuarkið. Um það er ein uppgáva, sum tú ikki dugir, far so víðari. Tú kanst skriva við blýanti.

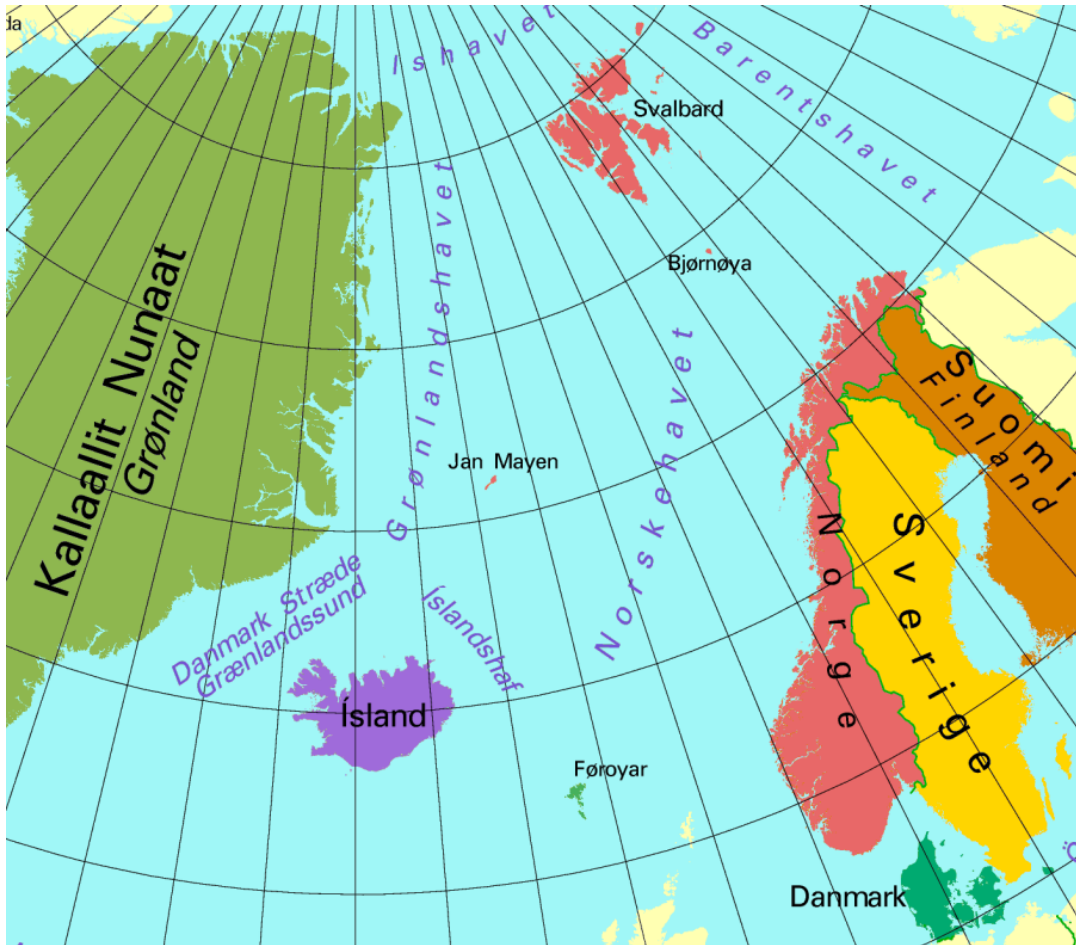
Føroyar

1. Set píl frá navni til stað.



Norðurlond

2. Set striku millum flagg og land.



Hvat hava norðurlendsku fløggini til felag undantikið Grønland?

Svar: _____

Fuglar

3. Set striku til rætta navnið á fuglinum.



Lógv



Spógvi



Stari



Kráka



Terna



Tjaldur

Fiskar

4. Set striku til rætta navnið á fiskinum.



Makrelur



Hýsa



Toskur



Kalvi



Kongafiskur

Dýr í fjøruni og smákykt

5. Tekna strikur ímillum myndina og rætta navnið.



Krutt (ulka)



Lúsakrabbi



Eiturkoppur



Skolopendari



Fjørurkrabbi



Tvísterta

Plantur

6. Set striku frá mynd til rætta navnið.



Summardái



Mýrihoylús
(gloym meg ei)



Ljós blákolla



Mýrisólja
(tjóðarblóma okkara)



Jóansøku gøtubrá

Sansar

7. Set striku millum mynd og tekst.



Kips

Søtt



Vatn

Beiskt



Greypfrukt

Súrt



Bomm

Ongan smakk

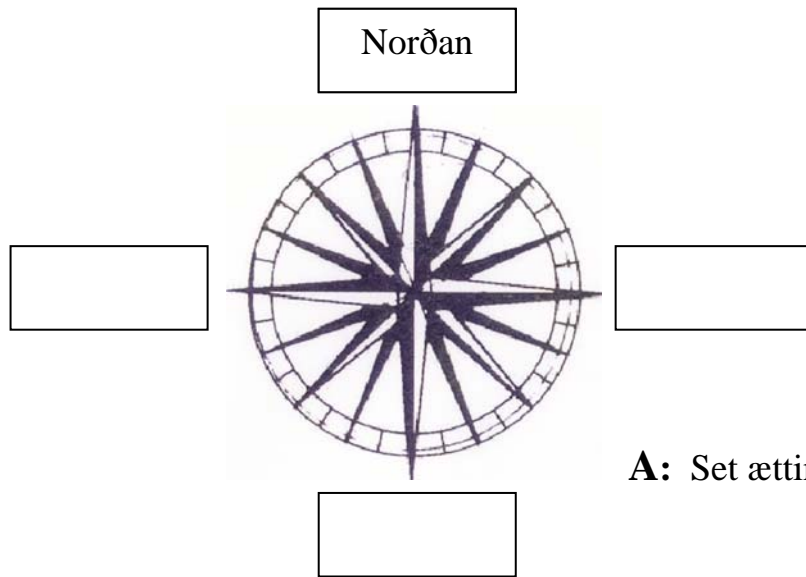


Sitrónir

Salt

Ættirnar

8.



A: Set ættirnar inn í kassarnar.



B: Eystasta oyggj í Føroyum. _____

C: Sunnasta oyggj í Føroyum. _____

D: Hvør býur er vestari, Klaksvík ella Tórshavn? _____

E: Hvør oyggj er norðast, Svínoy ella Viðoy? _____

Ellæra

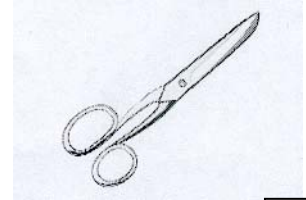
9. Hvørjir av hesum lutum leiða streym?



Seymur

☐

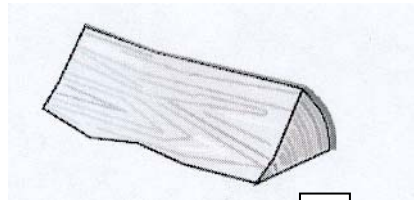
Jarn boltur

☐

Saksur

☐

Gummihandskar

☐

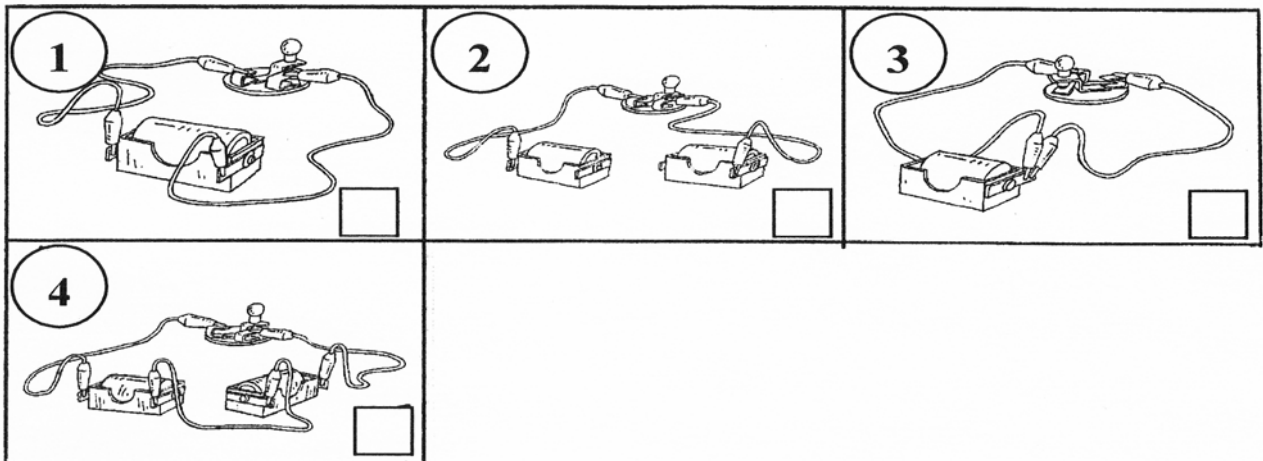
Træ

☐

Vatn

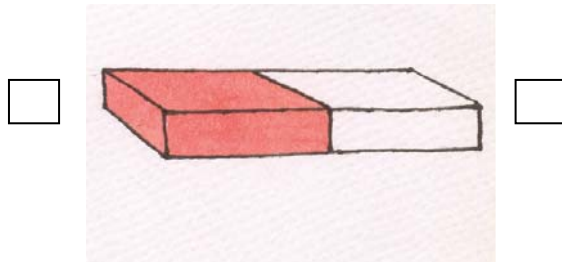
☐

10. Set kross í, har peran lýsir.

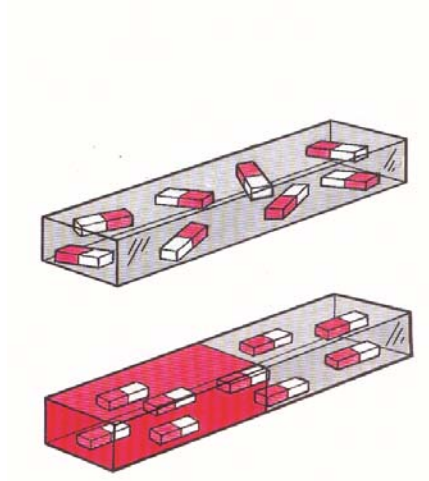


Magnetir

11) Set N við norðpól og S við suðurlpól.



12) Her eru tvey jarnpetti. Set kross við magnetina.



13) Set kross við teir lutir, sum magnetin klárar at draga til sín.



Seymur

☐

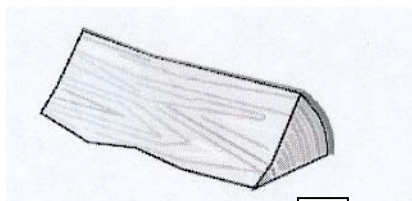
Jarn boltur

☐

Saksur

☐

Gummihandskar

☐

Træ

☐

Vatn

☐



Prent: Føroyaprent