

# Náttúra og tækni

45 minuttir



*Nýfolað fyl. Mynd frá [www.skulin.fo](http://www.skulin.fo). John Berg tók myndina.*

Navn: _____	Flokkur: _____
Skúli: _____	Lærari: _____

Svarini verða skrivað á uppgávuarkið. Um tað er ein uppgáva, sum tú ikki dugir, far so víðari. Tú kanst skriva við blýanti.

1.

# Føroyar

Set striku frá bygd/bý til oyggj:

## Skopun

Klaksvík

Miðvágur

Hattarvík

Tvøroyri

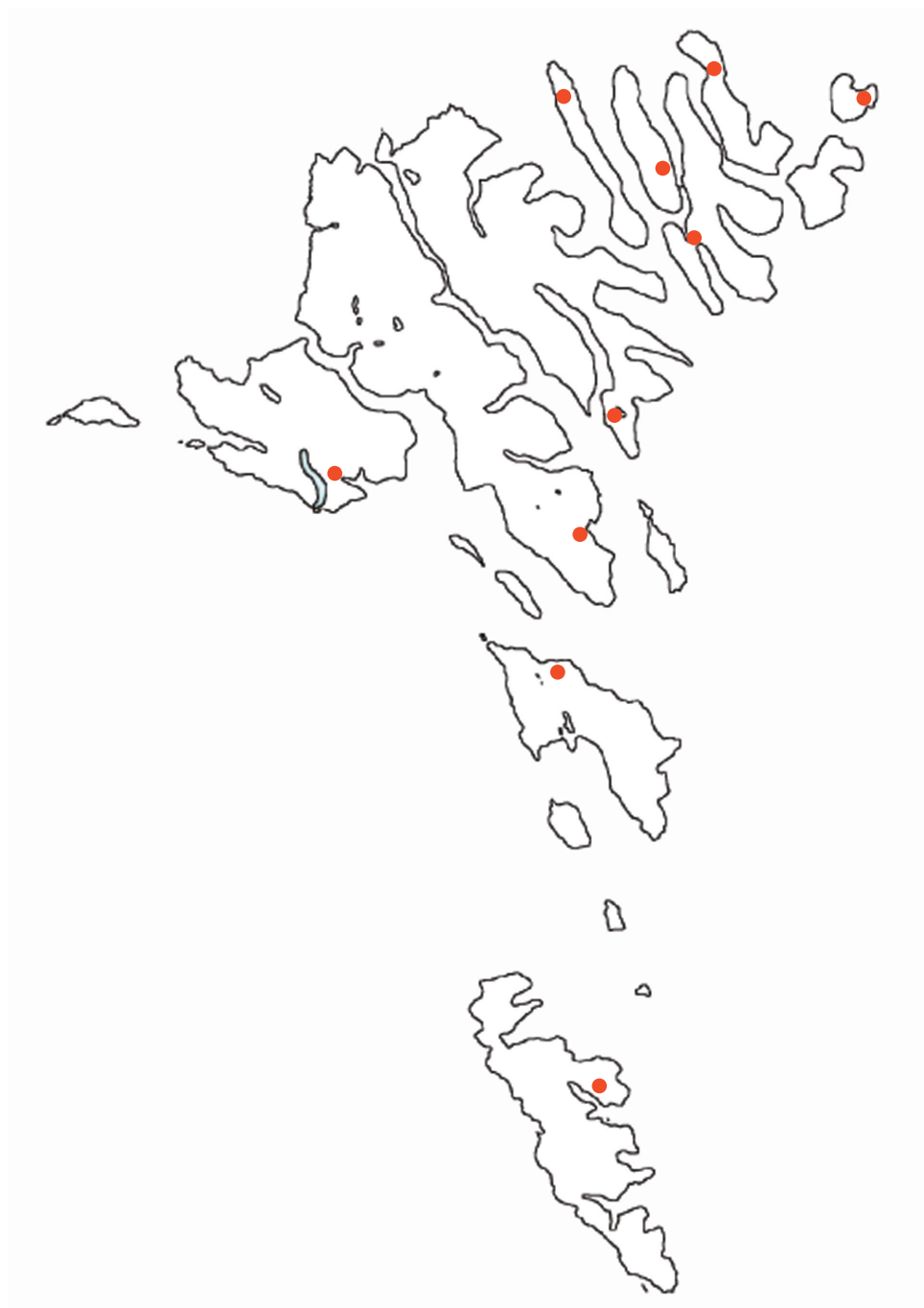
Viðareíði

Tórshavn

Trøllanes

Toftir

Haraldsund



2.

## Norðurlond

Set striku frá hövuðsstaði til flagg.

Helsinki



Stockholm



Oslo




Nuuk



Mariehamn



Reykjavík



3.

# Fuglar

Set striku ímillum fugl og rætta navnið.



Kráka



Stari



Tjaldur



Spógvi



Ravnur



Likka

Myndir úr: “*Fuglar í Føroyum*”.



4.

# Plantur

Set striku ímillum blómu og rætta navnið.



Mýrisólja



Blákollur



Summardái



Sjógras



Reyðakkuleya

5.

# Fiskar


Set striku ímillum fisk og rætta navnið.



**Hýsa**



**Kalvi**



**Havtaska**



**Toskur**




**Sild**

6.


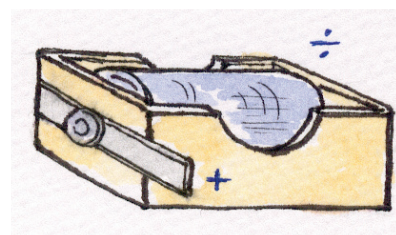


# Vatn og luft

Set X í rútin, har vatnið er salt.



Tekning: Sólgerð Andreassen.

7.



Set leidningar ímillum, so perurnar lýsa og klokkan ringir.

Tekningar: Sólgerð Andreassen.



8.

# Nær síggja vit ælabogan?

Set x við rætt svar.



*Mynd úr bókini "Náttúra og Tøkni 3", Føroya Skúlabókagrunnur.*

☐

Tá tað regnar

☐

Tá sólin skínur

☐

Tá tað er sól og regn

9.

# Sansar


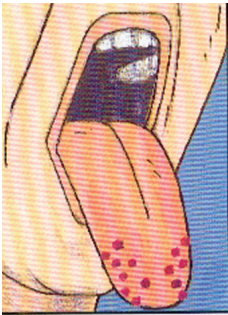
Set striku millum tekst og mynd.

Súrt

Søtt

Salt

Beiskt



Myndir úr bókini "Náttúra og Tækni 1", Føroya Skúlabókagrunnur.

Tekna pílur í myndina, sum vísa hvønn veg vit lukta.



Tekning: Sólgerð Andreassen.




10.

# Ættirnar

Hvussu eita ættirnar. Set nøvn í kassarnar.

Norður

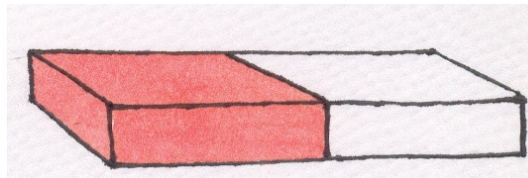


Mynd úr: “Náttúra og tøkni 1”, Føroya Skúlabókagrunnur.

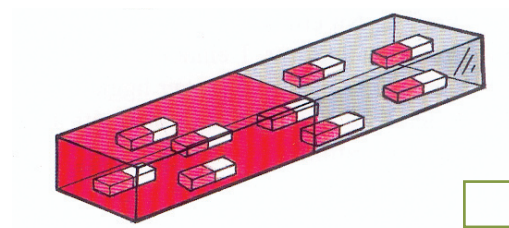
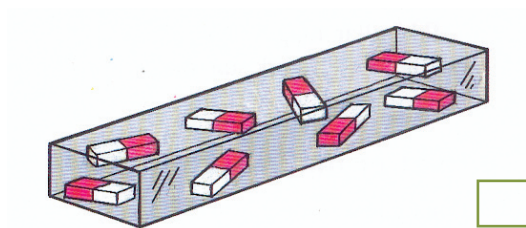
11.

# Magnetir

1) Set N við norðpól og S við suðarpól.



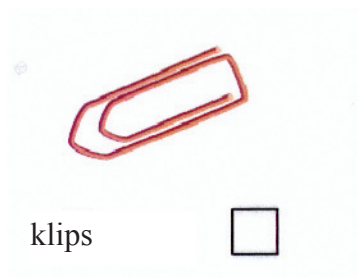
2) Her eru 2 jarnpetti. Set kross við magnetina.




Mynd úr: "Náttúra og tækni 1", Føroya Skúlabókagrunnur.

3) Hvat kann ein magnet brúkast til. Nevn minst tvey dømi. \_\_\_\_\_


\_\_\_\_\_



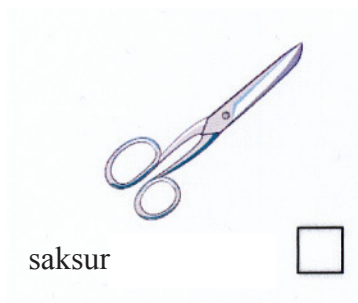
klips



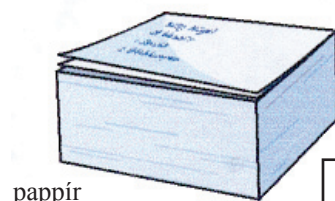
træ



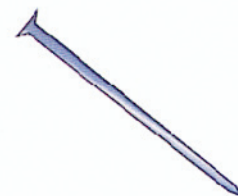
steinur



saksur



pappír



seymur



Tekningar: Sólgerð Andreassen.

